



T.C. Ölçme, Seçme ve Yerleştirme Merkezi

LİSANS YERLEŐTİRME SINAVI-3

COĞRAFYA-1 TESTİ

**18 HAZİRAN 2017
PAZAR**

Bu testlerin her hakkı saklıdır. Hangi amaçla olursa olsun, testlerin tamamının veya bir kısmının Merkezimizin yazılı izni olmadan kopya edilmesi, fotoğrafının çekilmesi, herhangi bir yolla çoğaltılması, yayımlanması ya da kullanılması yasaktır. Bu yasağa uymayanlar gerekli cezai sorumluluğu ve testlerin hazırlanmasındaki mali külfeti peşinen kabullenmiş sayılır.

AÇIKLAMA

1. Bu kitapçıkta Lisans Yerleştirme Sınavı-3 Coğrafya-1 Testi bulunmaktadır.
2. Bu test için verilen cevaplama süresi **35 dakikadır**.
3. Bu testte yer alan her sorunun sadece bir doğru cevabı vardır. Bir soru için birden çok cevap yeri işaretlenmişse o soru yanlış cevaplanmış sayılacaktır.
4. İşaretlediğiniz bir cevabı değiştirmek istediğinizde, silme işlemini çok iyi yapmanız gerektiğini unutmayınız.
5. Bu test puanlanırken doğru cevaplarınızın sayısından yanlış cevaplarınızın sayısının dörtte biri çıkarılacak ve kalan sayı ham puanınız olacaktır. Kısa cevaplı sorular bu uygulamanın dışında tutulacaktır.
6. Cevaplamaya istediğiniz sorudan başlayabilirsiniz. Bir soru ile ilgili cevabınızı, cevap kâğıdında o soru için ayrılmış olan yere işaretlemeyi unutmayınız.
7. Kısa cevaplı soruları, cevap kâğıdındaki ilgili alana sola dayalı olarak yazıp kodlayınız.
8. Sınavda uyulacak diğer kurallar bu kitapçığın arka kapağında belirtilmiştir.



1. Bu testte 24 soru vardır.
2. Cevaplarınızı, cevap kâğıdının Coğrafya-1 Testi için ayrılan kısmına işaretleyiniz.

1. Aşağıda, bir iklim tipine ait bazı özellikler verilmiştir.

- Yıllık ortalama sıcaklığı 30 °C civarındadır.
- Günlük sıcaklık farkları fazladır.
- Yıllık yağış miktarı 200 mm'den azdır.

Özellikleri belirtilen bu iklim tipi aşağıdakilerden hangisidir?

- A) Muson B) Karasal C) Çöl
D) Step E) Ekvatorial

2. Yer şekillerinin oluşum ve gelişimlerinde kayaçların önemli bir rolü vardır. Kireçtaşının çözünme özelliklerine bağlı olarak meydana gelen yer şekillerinin oluşturduğu "karst topoğrafyası" bu örneklerden biridir.

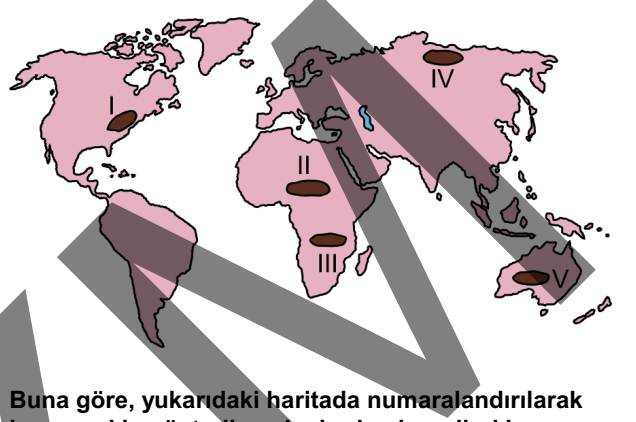
Aşağıdaki yer şekillerinden hangisi bu özelliklere bağlı oluşmamıştır?

- A) Obruk B) Drumlin C) Lapyalı
D) Dolin E) Polye

3. Aşağıdakilerden hangisi, küresel ekosistemdeki madde döngülerinden biri değildir?

- A) Toprak B) Karbon C) Oksijen
D) Su E) Azot

4. Yeryüzünde, aynı iklim koşulları altında benzer bitki ve hayvan topluluklarının bulunduğu alanlara biyom veya büyük yaşam kuşakları adı verilmektedir.



Buna göre, yukarıdaki haritada numaralandırılarak koyu renkle gösterilen alanlardan hangileri benzer biyomlardır?

- A) III ve IV B) II ve IV C) I ve II
D) IV ve V E) II ve III

5. I. Okyanus ve deniz seviyelerinin alçalması
II. Buzul erimelerinin artması
III. Biyoçeşitliliğin artması
IV. Göllerin kuruması

Yukarıdakilerden hangileri, insanın doğayı yanlış ve bilinçsiz kullanımına bağlı olarak gelecekte yaşanma olasılığı yüksek olaylardır?

- A) I ve II B) I ve III C) II ve III
D) II ve IV E) III ve IV





2017-LYS3/COĞ-1

6. Metropol şehirlerin gelişiminde aşağıdakilerden hangisinin olumlu etkisi diğerlerine göre **daha azdır**?

- A) Eğitim hizmetlerinin yaygınlaşması
- B) Sanayi tesisi sayılarının artması
- C) Pazar potansiyelinin büyümesi
- D) Modern tarım yöntemlerinin uygulanması
- E) Toplumsal ve kültürel çekiciliğin artması

7. Aşağıda, bir ülkeye ait dört bölgenin nüfus yoğunlukları ile yüz ölçümleri verilmiştir.

BÖLGELER	Aritmetik Nüfus Yoğunluğu (km ² /kişi)	Yüz ölçümü (bin km ²)
I	5	150
II	50	100
III	50	70
IV	150	40

Bu tablodaki bilgilere göre aşağıdakilerden hangisi **söylenemez**?

- A) II numaralı bölgenin nüfusu, III numaralı bölgeden fazladır.
- B) I numaralı bölgede nüfus, diğer bölgelerden daha azdır.
- C) II ve III numaralı bölgelerin toplam nüfusları aynıdır.
- D) Nüfusu en fazla olan bölge IV numaralı bölgedir.
- E) I ve III numaralı bölgelerin toplam nüfusu, IV numaralı bölgeden azdır.

8. Aşağıdakilerden hangisi, son yıllarda gelişme gösteren ve tarihsel olarak küresel bir merkez özelliğine sahip olmayan şehirlerden biridir?

- A) Roma
- B) İstanbul
- C) Kahire
- D) Dubai
- E) Londra

9. Dünyadaki kültürel gelişim birbirine eklenerek günümüze kadar gelmiştir. Nitekim farklı devletler ve milletler arasındaki ürünlerin ticaretini sağlayan ulaşım sistemleri kültürel etkileşimin en önemli ayaklarından birini oluşturur. Özellikle uzunluğu fazla olan kara yollarının kültürel etkileşimde daha etkili olduğu bilinmektedir.

Aşağıdaki yollardan hangisi bu etkileşime **daha fazla katkı sağlamıştır**?

- A) Baharat Yolu
- B) İpek Yolu
- C) Kral Yolu
- D) Likya Yolu
- E) Çay Yolu

10. I. Akarsu aşındırmasının güçlü olması
II. Gelgit genliğinin az olması
III. Kıyı açıklarında çok sayıda ada olması
IV. Akarsu vadilerinin genelde doğu-batı doğrultusunda uzanması

Türkiye'nin batı kıyılarında birçok delta ovasının oluşmasında, yukarıdakilerden hangileri etkili olmuştur?

- A) I ve II
- B) I ve III
- C) II ve III
- D) II ve IV
- E) III ve IV





2017-LYS3/COĞ-1

11. • İskenderun'da demir-çelik fabrikası
• Samsun'da bakır işleme tesisleri
• Mersin'de petrol rafinerisi

Bu sanayi tesislerinin yer seçiminde etkili olan temel faktör aşağıdakilerden hangisidir?

- A) Enerji B) Pazar C) Ulaşım
D) İş gücü E) Ham madde

12. Türkiye'de mera hayvancılığı giderek azalırken besi ve ahır hayvancılığı artmaktadır.

Aşağıdakilerden hangisi bu değişimin nedenlerinden biri değildir?

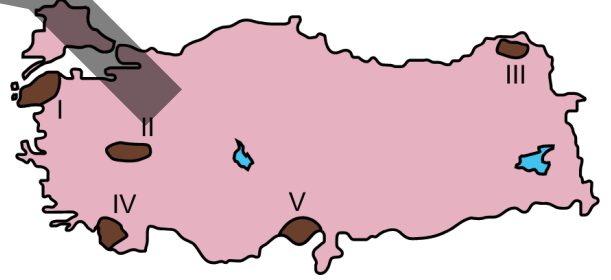
- A) Besi ve ahır hayvancılığının maliyetinin daha az olması
B) Besi ve ahır hayvancılığında çevresel etkilerin daha az olması
C) Mera alanlarının giderek azalması
D) Besi ve ahır hayvancılığının, yer seçiminde daha esnek olması
E) Besi ve ahır hayvancılığında verimin daha yüksek olması

13. Cumhuriyetin ilk yıllarından günümüze kadar geçen süreçte sanayinin ekonomideki payını artırmak için Türkiye'de birçok çalışma yapılmıştır.

Aşağıdakilerden hangisi bu çalışmalardan biri değildir?

- A) Sanayinin teşvik edilmesinin devlet politikası hâline getirilmesi
B) Eğitim faaliyetleriyle nitelikli eleman ihtiyacının karşılanması
C) Teknolojik gelişmelerin takibiyle sanayi kollarının çeşitlenmesi
D) Hizmet ve tarım sektöründeki sınırlamalarla sanayinin teşvik edilmesi
E) Ulaşım başta olmak üzere sanayi alt yapısının iyileştirilmesi

14. Aşağıdaki haritada bazı bölgeler numaralandırılarak koyu renkle gösterilmiştir.



Bu bölgelerin hangisi;

- tarım bölgesi,
- yoğun nüfuslu bölge

özelliklerinin ikisine de sahiptir?

- A) I B) II C) III D) IV E) V





2017-LYS3/COĞ-1

15. Türkiye, turist sayısı bakımından dünya sıralamasında her zaman ilk on içerisinde yer alırken turizm gelirleri açısından daha geri sıralarda yer almaktadır.

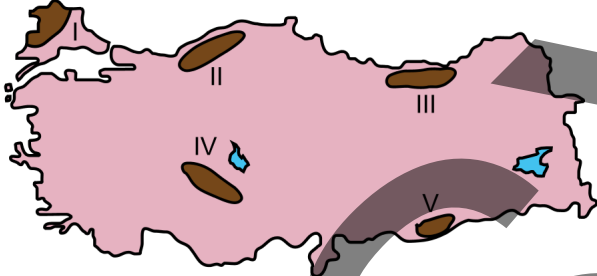
Turist sayısı ile turizm gelirleri arasındaki bu fark;

- I. gelen turistlerin sosyoekonomik yapısı,
- II. yetersiz tanıtım,
- III. ulaşım olanaklarının yetersizliği

unsurlarından hangileriyle ilişkilidir?

- A) Yalnız I B) Yalnız II C) Yalnız III
D) I ve II E) II ve III

16. Aşağıdaki haritada bazı alanlar numaralandırılarak koyu renkle gösterilmiştir.



Bu alanların hangilerinde yer şekillerine bağlı kara yolu yapım maliyetlerinin daha fazla olması beklenir?

- A) I ve II B) I ve IV C) II ve III
D) III ve V E) IV ve V

17. Aşağıdaki tabloda beş ülkeye ait dış alım ve dış satım verileri gösterilmiştir.

Ülkeler	Dış alım (milyon dolar)	Dış satım (milyon dolar)
K ülkesi	1.257.640	781.125
L ülkesi	497.902	549.686
M ülkesi	236.671	238.310
N ülkesi	301.085	298.899
P ülkesi	334.366	281.550

Bu tablodaki bilgilere göre aşağıdaki yorumlardan hangisine ulaşamaz?

- A) Dış ticaret açığı en fazla olan ülke K'dir.
B) Dış satım gelirleri en düşük olan ülke M'dir.
C) Dış ticaret hacmi en büyük olan ülke K'dir.
D) N ve P ülkelerinin dış satım toplamı, L'nin dış satımından fazladır.
E) Ülkelerin tümünde dış alım, dış satımdan fazladır.

18. Orta Doğu'da yaşanan güncel sıcak çatışmalar üzerinde aşağıdakilerden hangisinin etkisi daha azdır?

- A) Enerji kaynaklarının paylaşımı
B) Etnik milliyetçiliğin artması
C) Otoriter yönetimler
D) Mezhepsel çatışmalar
E) Su kaynaklarının paylaşımı





2017-LYS3/COĞ-1

19. Petrol ve doğal gaz kullanımının daha da arttığı günümüzde bu kaynağa sahip olan ülkeler önemli bir gelir elde etmektedir. Ancak bu kaynakların, özellikle taşınması sırasında büyük yatırımlara gereksinim duyulmaktadır.

Bu kaynaklara sahip olmasına rağmen taşıma sırasında coğrafi konumundan dolayı, diğerlerine göre dezavantajlı konumda olan ülke aşağıdakilerden hangisidir?

- A) İran B) Cezayir C) Azerbaycan
D) Venezuela E) Nijerya

20. Aşağıdaki doğa olaylarından hangisi, karşısında verilen doğal afetin meydana gelmesinde doğrudan etkili değildir?

- A) Denizaltı depremleri - Tsunami
B) Aşırı sıcaklıklar - Erozyon
C) Volkanik patlamalar - Yer sarsıntıları
D) Eğimli alanlara aşırı kar yağışı - Çiğ
E) Aşırı yağışlar - Sel ve taşkınlar

21. Aşağıdakilerden hangisi atmosferdeki doğal dengenin korunması için alınabilecek önlemlerden biri değildir?

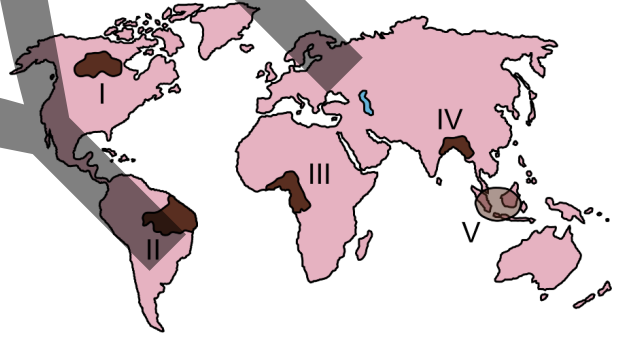
- A) Yenilenebilir enerji kaynakları kullanımının yaygınlaştırılması
B) Orman örtüsü miktarının artırılması
C) Termik santrallerde yeni teknolojilerin kullanılması
D) Fazla karbon salan kuruluşlardan yüksek vergi alınması
E) Hava ulaşımının teşvik edilmesi

22. Dünya genelinde, yeni tarım alanları açmak için yapılan hatalı uygulamalardan biri de göllerin kurutulmasıdır.

Aşağıdakilerden hangisi kurutulan bu alanlarda ortaya çıkan sorunlardan biri değildir?

- A) Yıllık yağış miktarının artması
B) Taban suyu seviyesinin azalması
C) Nem oranının azalması
D) Rüzgâr erozyonunun artması
E) Ekolojik dengenin bozulması

23. Aşağıdaki haritada bazı alanlar numaralandırılarak koyu renkle gösterilmiştir.



Doğal ve beşerî özellikleri dikkate alındığında bu alanların hangisindeki ormancılık faaliyetleri diğerlerine göre daha sürdürülebilir niteliktedir?

- A) I B) II C) III D) IV E) V

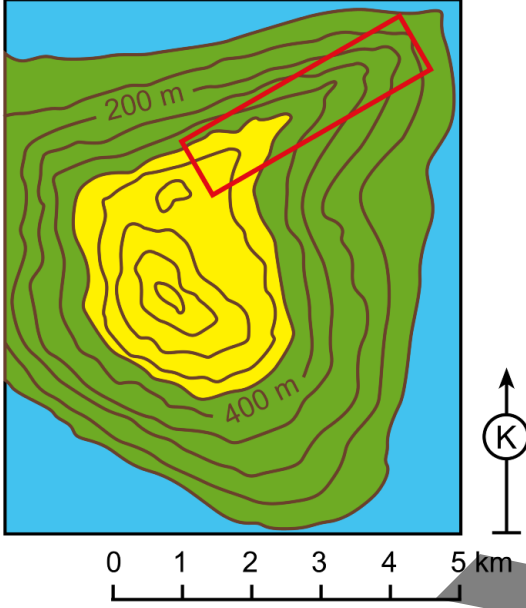




2017-LYS3/COĞ-1

24. sorunun cevabını, cevap kâğıdınızdaki ilgili alana sola dayalı olarak yazıp kodlayınız.

24. Aşağıda bir topoğrafya haritası verilmiştir.



Bu haritada kırmızı renkli dikdörtgen alanla gösterilen yer şeklinin adı nedir?



2017-LYS3

18-06-2017

COĞRAFYA-1 TESTİ

1. C
2. B
3. A
4. E
5. D
6. D
7. C
8. D
9. B
10. A
11. C
12. A
13. D
14. E
15. D
16. C
17. E
18. E
19. C
20. B
21. E
22. A
23. A
24. SIRT

ÖSYM



SINAVDA UYULACAK KURALLAR

1. Sınav salonunda saate entegre kamera ile kayıt yapılıyor ise; kamera kayıtlarının incelenmesinden sonra sınav kurallarına uymadığı tespit edilen adayların sınavları ÖSYM Yönetim Kurulunca geçersiz sayılacaktır.
2. **Cep telefonu ile sınava girmek kesinlikle yasaktır.** Her türlü elektronik/mechanik cihazla ve çağrı cihazı, telsiz, fotoğraf makinesi vb. araçlarla; cep bilgisayar, her türlü saat ile, kablosuz iletişim sağlayan bluetooth, kulaklık vb. her türlü bilgisayar özelliği bulunan cihazlarla; her türlü kesici ve delici alet, ateşli silah vb. teçhizatla; kalem, silgi, kalemтираş, müsvetde kâğıdı, defter, kitap, ders notu, sözlük, dergi, gazete vb. yayınlar, hesap makinesi, pergel, açıölçer, cetvel vb. araçlarla sınava girmek kesinlikle yasaktır. Sınava kolye, küpe, yüzük (alyans hariç), bilezik, broş, anahtar, anahtarlık, metal para gibi metal içerikli eşyalarla (basit başörtü iğnesi ve ince metal tokalı kemer hariç); plastik veya camdan yapılmış her türlü güneş gözlüğü ile (şeffaf/numaralı gözlük hariç), banka/kredi kartı, ulaşım kartı vb. kartlarla; yiyecek-içecek (şeffaf pet şişe içerisindeki su hariç) ve diğer tüketim maddeleri ile gelmeleri kesinlikle yasaktır. Bu tür eşya, araç-gereçlerle sınava girmiş adaylar mutlaka Salon Tutanağı'na yazılacak, bu adayların sınavı geçersiz sayılacaktır. **Ancak, ÖSYM Başkanlığı tarafından belirlenen Engelli ve Yedek Sınav Evrakı Yönetim Merkezi (YSYM) binalarında sınava girecek olan engelli adayların sınav giriş belgelerinde yazılı olan araç-gereçler, cihazlar vb. yukarıda belirtilen yasakların kapsamı dışında değerlendirilecektir.**
3. Bu test için verilen cevaplama süresi **35 dakikadır.** LYS-3'te adaylar **Türk Dili ve Edebiyatı Testi'nin cevaplama süresi içinde, Coğrafya-1 Testi'nin ilk 15 ve son 15 dakikası** içinde sınav salonundan ayrılamazlar. İki test arasında birinci testin soru kitapçığının toplanması ve ikinci testin soru kitapçığının dağıtılması işlemleri dışında ara verilmez. Toplama ve dağıtma işlemi sırasında adayların salondan dışarı çıkmaları kesinlikle yasaktır. **Bu süreler dışında, cevaplama sınav bitmeden tamamlarsanız cevap kâğıdınızı ve soru kitapçığınızı salon görevlilerine teslim ederek salonu terk edebilirsiniz. Bildirilen süreler aykırı davranışlardan adayın kendisi sorumludur.**
4. **Sınav salonundan ayrılan aday, her ne sebeple olursa olsun, tekrar sınav salonuna alınmayacaktır.**
5. Sınav süresince görevlilerle konuşmak, görevlilere soru sormak yasaktır. Aynı şekilde görevlilerin de adaylarla yakından ve alçak sesle konuşmaları ayrıca adayların birbirinden kalem, silgi vb. şeyleri istemeleri kesinlikle yasaktır.
6. Sınav sırasında, görevlilerin her türlü uyarısına uymak zorundasınız. Sınavınızın geçerli sayılması, her şeyden önce, sınav kurallarına uymaya bağlıdır. Kurallara aykırı davranışta bulunanlar ve yapılacak uyarılara uymayanlar Salon Tutanağı'na yazılacak ve sınavları geçersiz sayılacaktır.
7. Sınav sırasında kopya çeken, çekmeye kalkışan, kopya veren, kopya çekilmesine yardım edenler Salon Tutanağı'na yazılacak ve bu adayların sınavları geçersiz sayılacaktır. Adayların test sorularına verdikleri cevapların dağılımları bilgi işlem yöntemleriyle incelenecek, bu incelemelerden elde edilen bulgular bireysel veya toplu olarak kopya çekildiğini gösterirse kopya eylemine katılan adayın/adayların sınavı geçersiz sayılacak ayrıca 2 yıl boyunca ÖSYM tarafından düzenlenen hiçbir sınava başvuru yapamayacak ve sınava giremeyecektir. Sınav görevlileri bir salondaki sınavın, kurallara uygun biçimde yapılmadığını, toplu kopya girişiminde bulunduğu raporlarında bildirdiği takdirde, ÖSYM bu salonda sınava giren tüm adayların sınavını geçersiz sayabilir.
8. Cevap kâğıdında doldurmanız gereken alanlar bulunmaktadır. Bu alanları doldurunuz. Cevap kâğıdınızı başkaları tarafından görülmeyecek şekilde tutmanız gerekmektedir. Cevap kâğıdına yazılacak her türlü yazıda ve yapılacak bütün işaretlemelerde kurşun kalem kullanılacaktır. Sınav süresi bittiğinde cevapların cevap kâğıdına işaretlenmiş olması gerekir. Soru kitapçığına işaretlenen cevaplar geçerli değildir.
9. Soru kitapçığınızı alır almaz kapağında bulunan ilgili alanları doldurunuz. Size söylendiği zaman sayfaların eksik olup olmadığını, kitapçıkta basım hatalarının bulunup bulunmadığını ve soru kitapçığının her sayfasında basılı bulunan soru kitapçık numarasının, kitapçığın ön kapağında basılı soru kitapçık numarasıyla aynı olup olmadığını kontrol ediniz. Soru kitapçığının sayfası eksik veya basımı hatalıysa değiştirilmesi için salon başkanına başvurunuz. Size bu sınavın her bir testi için ayrı ayrı kitapçıklar verilmektedir. Her kitapçığın Soru Kitapçık Numarası birbirinden farklıdır. Bu nedenle her test için aldığınız kitapçığın Soru Kitapçık Numarası'nı cevap kâğıdınızdaki ilgili alana kodlamanız çok önemlidir. Cevap kâğıdınızdaki "Soru kitapçık numarasını doğru kodladım." kutucuğunu işaretleyiniz. **LYS-3'te size verilen Coğrafya-1 Testi'nin Soru Kitapçık Numarası'nı cevap kâğıdınızdaki "Coğrafya-1 Soru Kitapçık Numarası" alanına kodlayınız. Soru kitapçığı üzerinde yer alan Soru Kitapçık Numarası'nı doğru kodladığınızı beyan eden alanı imzalayınız.**
10. Sınav sonunda soru kitapçıkları toplanacak ve ÖSYM'de incelenecektir. Soru kitapçığının sayfasını koparmayınız. Soru kitapçığının bir sayfası bile eksik çıkarsa sınavınız geçersiz sayılacaktır.
11. Cevap kâğıdına ve soru kitapçığına yazılması ve işaretlenmesi gereken bilgilerde bir eksiklik ve/veya yanlışlık olması hâlinde sınavınızın değerlendirilmesi mümkün değildir, bu husustaki özen yükümlülüğü ve sorumluluk size aittir.
12. Soru kitapçığının sayfalarındaki boş yerleri müsvetde için kullanabilirsiniz.
13. Soruları ve/veya bu sorulara verdiğiniz cevapları ayrı bir kâğıda yazıp bu kâğıdı dışarı çıkarmanız kesinlikle yasaktır.
14. **Sınav salonundan ayrılmadan önce, soru kitapçığınızı, cevap kâğıdınızı ve sınava giriş belgenizi salon görevlilerine eksiksiz olarak teslim ediniz. Bu konudaki sorumluluk size aittir.**
15. **Her testin cevaplarını cevap kâğıdındaki ilgili alana işaretlemeye dikkat ediniz.**
16. Sınav süresi salon görevlilerinin "SINAV BAŞLAMIŞTIR" ibaresiyle başlar, "SINAV BİTMİŞTİR" ibaresiyle sona erer.

Bu testlerin her hakkı saklıdır. Hangi amaçla olursa olsun, testlerin tamamının veya bir kısmının Merkezimizin yazılı izni olmadan kopya edilmesi, fotoğrafının çekilmesi, herhangi bir yolla çoğaltılması, yayımlanması ya da kullanılması yasaktır. Bu yasağa uymayanlar gerekli cezai sorumluluğu ve doğacak tüm mali külfeti peşinen kabullenmiş sayılır.

